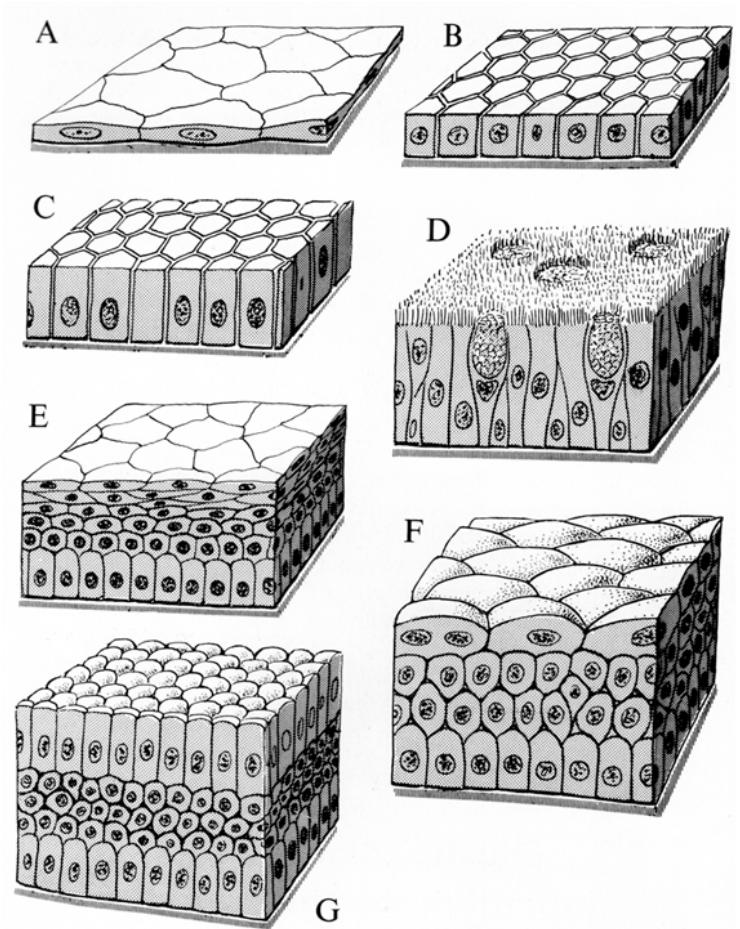


Milyen típusú alapszövetet lát a képeken?

Jellemezze a látott szövetet! (sejtek alakja, sejtközötti állomány, kapcsoló struktúrák, funkció, anyagcsere)

Milyen típusai vannak ennek a szövetnek?



Milyen típusú alapszövetet lát a képeken?

Jellemezze a látott szövetet!
(sejtek alakja, sejtközi állomány, kapcsoló struktúrák, funkció, anyagcsere)


Milyen típusai vannak ennek a szövetnek?



Nuclei



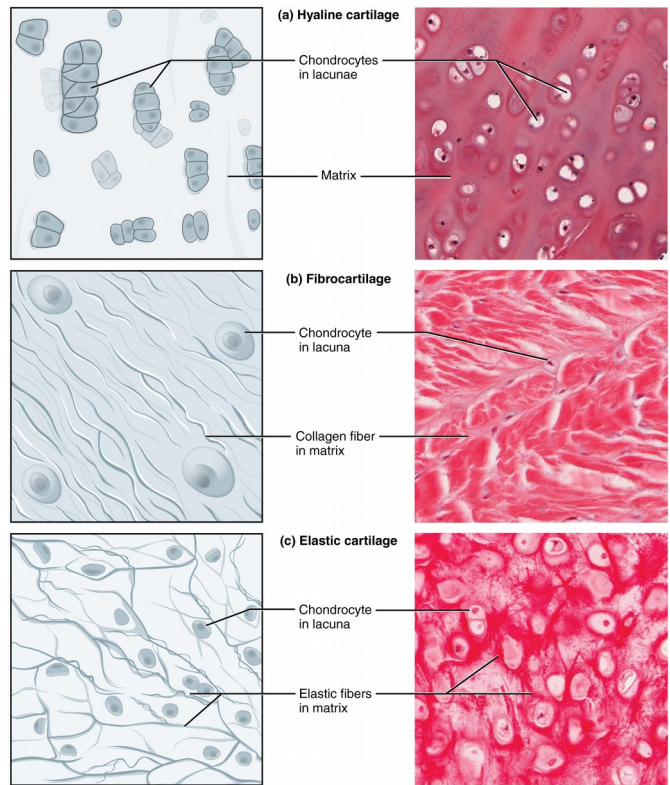
Intercalated disks



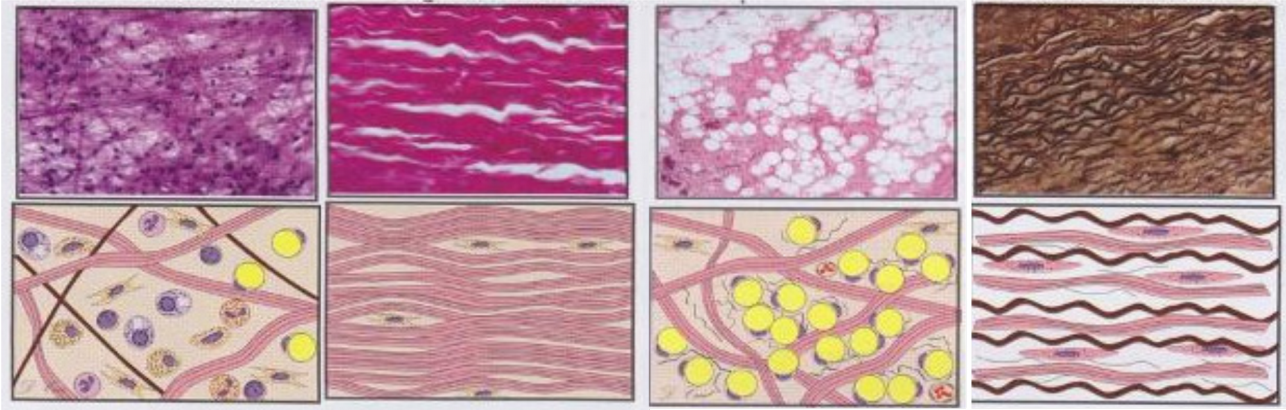
Milyen típusú alapszövetet lát a képeken?

Jellemezze a látott szövetet! (sejtek alakja, sejtközötti állomány, kapcsoló struktúrák, funkció, anyagcsere)

Milyen típusai vannak ennek a szövetnek?



Milyen típusú alapszövetet lát a képeken?



Jellemezze a látott szövetet! (sejtek alakja, sejtközi állomány, kapcsoló struktúrák, funkció, anyagcsere)

Milyen típusai vannak ennek a szövetnek?